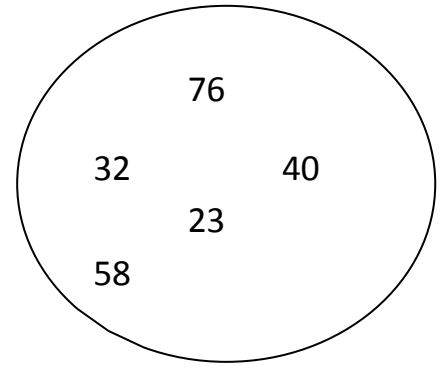


1. Ordeno estos números **de mayor a menor**.

> > > >



2. Descompongo como en el ejemplo:

$27 = 2 D + 7 U = 20 + 7$

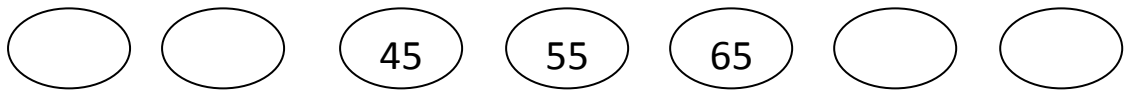
45 =

78 =

17 =

3. Sigo las series:

10 – 15 – 20 – – – – – – – – – – – – – – – –



4. Pongo el signo que corresponda: > < =

34	89		12	56		67	45		78	87		45	45
25	25		80	47		15	20		31	52		91	72

5. TACHA en cada fila el número MAYOR, y RODEA el MENOR.

42 – 35 – 12 – 89 – 51 – 27

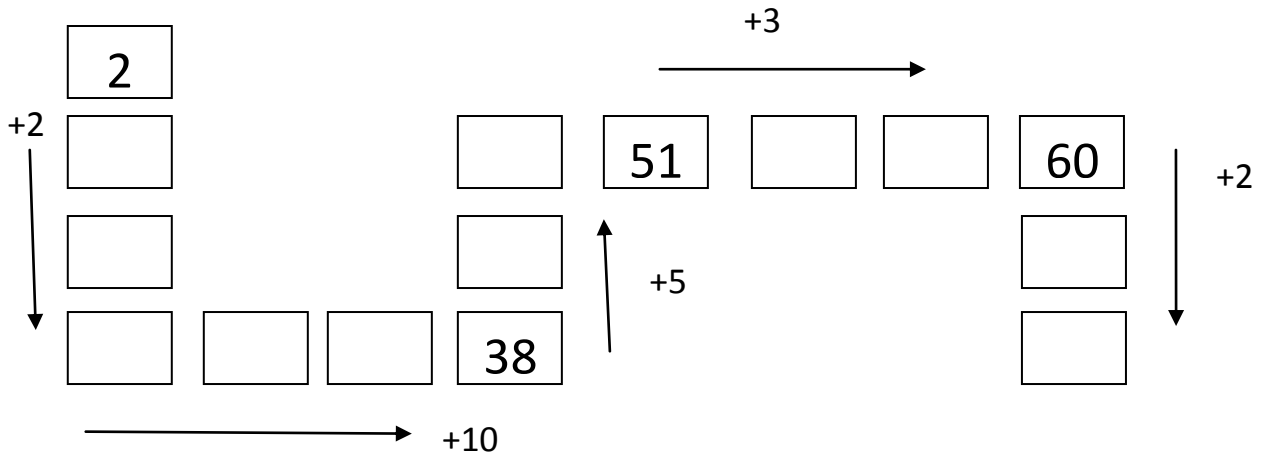
67 – 54 – 45 – 18 – 83 – 31

1- Completo:

1	2	3
4	5	6
7	8	9

	arriba	abajo	centro	izquierda	derecha
1					
2					
3					
4					
5					
6					
7					
8					
9					

2- Completo las casillas.

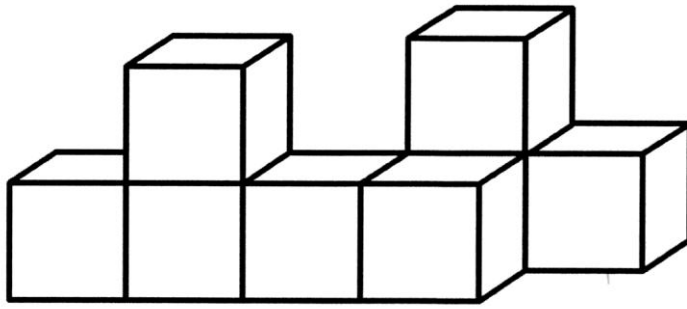


3- Completa el código.

Punto de inicio: () Punto de llegada: ()

										8
										7
										6
										5
										4
										3
										2
										1
0	1	2	3	4	5	6	7	8	9	10

4- Pinta de rojo los cubos que están **ENTRE** otros dos.




Colorea de azul los que no tienen **NINGUNO ENCIMA**.

5- Colorea así:

El jarrón **verde** está **ARRIBA A LA IZQUIERDA** del rojo.

El jarrón **amarillo** está a la **DERECHA** del azul.





1-Dictado de números y problemas orales


2- Sumo

34	27	415	69	757
$+ 56$	$+ 64$	$+ 137$	$+ 45$	$+ 26$
-----	-----	-----	-----	-----

3- Completo estas tablas.

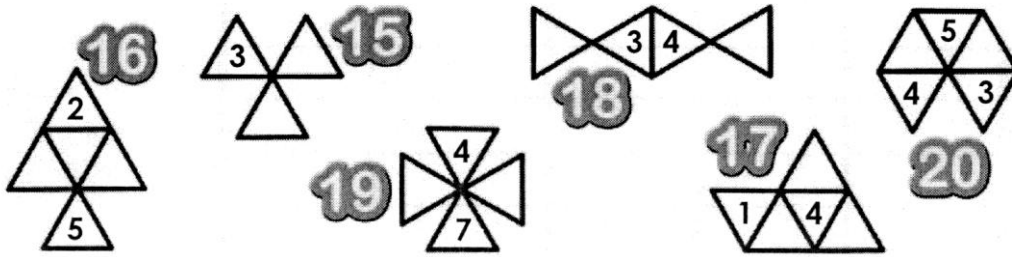


4- Sigo las series.



		20	25	30					
--	--	----	----	----	--	--	--	--	--

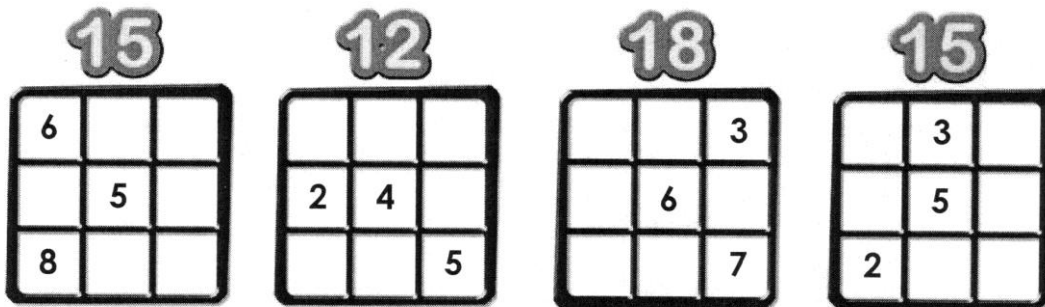
5 – Completa para que la suma sea el número indicado. En cada ejercicio, no puedes repetir los números.



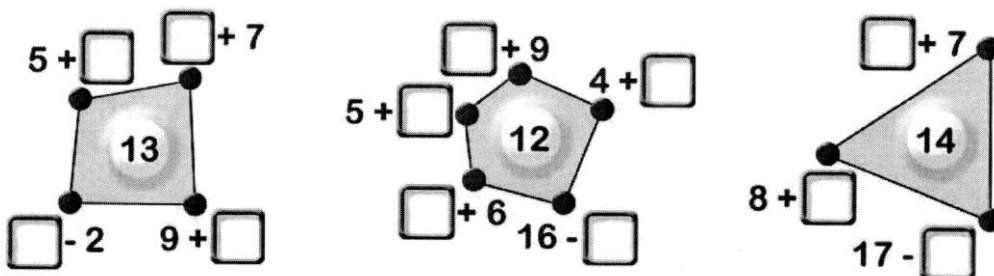
6- Resto

69	37	245	62	534
$- 17$	$- 25$	$- 127$	$- 48$	$- 256$

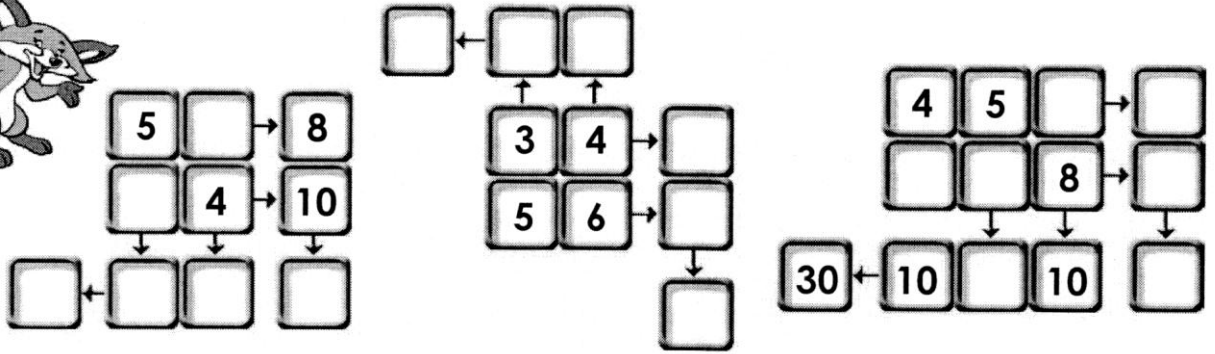

7- Completa. En vertical, en horizontal y en diagonal, la suma es el número indicado.



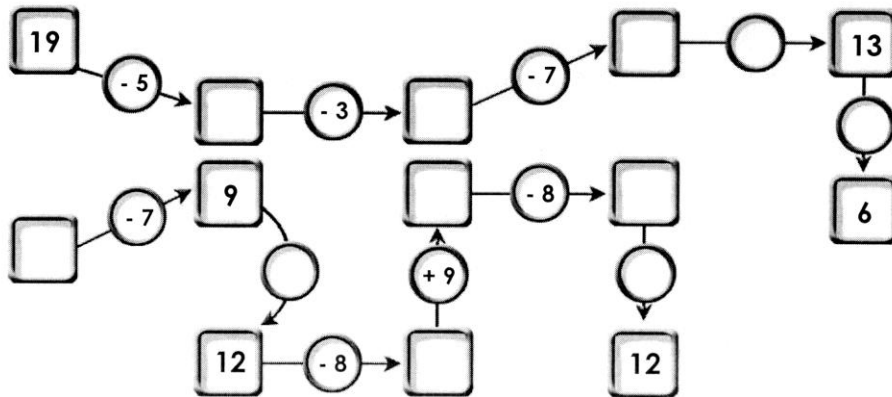
8- Completa. Los puntos que están unidos, suman lo mismo.



9- Suma en las direcciones que indican las flechas.



10- Completa siguiendo las flechas.



Fecha:

Control de matemáticas

Nombre:

1.- Escribo los números que me dictan.

--	--	--	--	--	--	--	--	--	--

2.- Descompongo como en el ejemplo.

$$347 = 3 \text{ C} + 4 \text{ D} + 7 \text{ U} = 300 + 40 + 7$$

$$269 =$$

$$175 =$$

$$408 =$$

3.- Escribo con letra.

$$468 -$$

$$190 -$$

$$257 -$$

$$303 -$$

4.- Coloco y hago las operaciones.

$145 + 327$	$789 + 65$	$543 + 280$	$476 + 108$
$956 - 134$	$659 - 207$	$537 - 162$	$943 - 575$

5.- Continuo las series

20	30	40							
-----------	-----------	-----------	--	--	--	--	--	--	--

				500	600				
--	--	--	--	------------	------------	--	--	--	--

6.- Pinta de rojo el **MAYOR** y tacha el **MENOR**

348	843	438	384	483
-----	-----	-----	-----	-----

751	517	175	571	157
-----	-----	-----	-----	-----

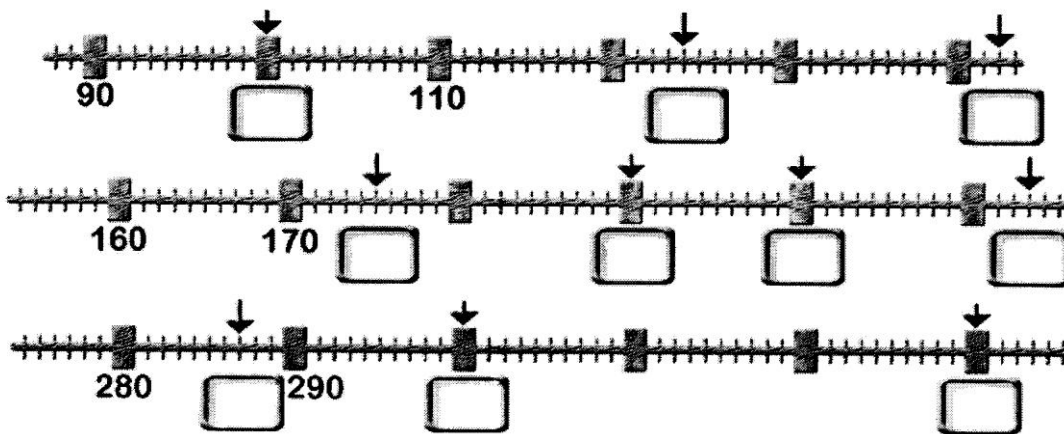
7.- Ordeno de **MAYOR** a **MENOR**

119	189	89	111	98	190	109
○	○	○	○	○	○	○

8.- Escribo todos los números que pueda con estas tres cifras: **6 8 2**

--	--	--	--	--	--

9.- Completa



10.- Escribe el signo correcto > < =

97 79

50 + 50 100

112 121

80 + 30 101

793 973

200 + 300 500