



1 Señala, entre estos números, los que son múltiplos de 6:

39	18	141
264	56	72
	224	42

2 Señala los múltiplos de 15.

360	75	42
115	230	85
	165	105

3 Señala los múltiplos de 23 (asegúrate antes mediante los cálculos oportunos).

93	161	237
	115	223
230	69	252

4 Escribe los cinco primeros múltiplos de 15.

$\overset{\bullet}{15} \rightarrow \square \rightarrow \square \rightarrow \square \rightarrow \square \rightarrow \square$

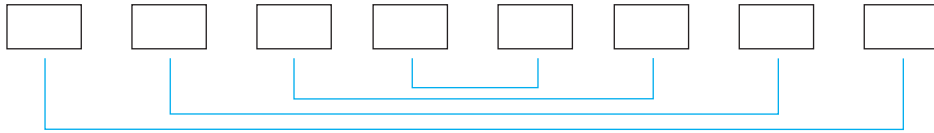
5 Escribe los cinco primeros múltiplos de 200.

$\overset{\bullet}{200} \rightarrow \square \rightarrow \square \rightarrow \square \rightarrow \square \rightarrow \square$

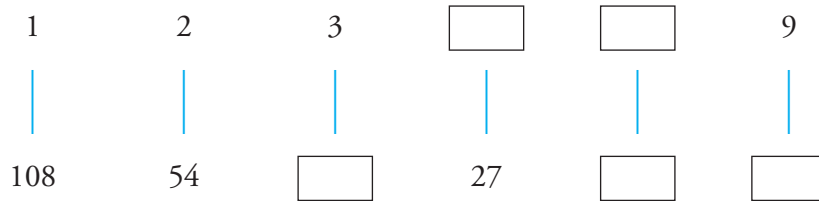


2. Refuerza: múltiplos y divisores

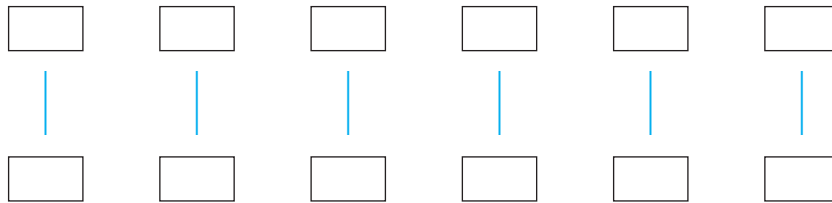
6 Escribe, ordenados, todos los divisores de 24.



7 Completa las casillas vacías con los divisores que faltan de 108, de forma que queden ordenados y emparejados.



8 Escribe, emparejados y ordenados, todos los divisores de 525.



9 Escribe, ordenados, todos los divisores de 225.

