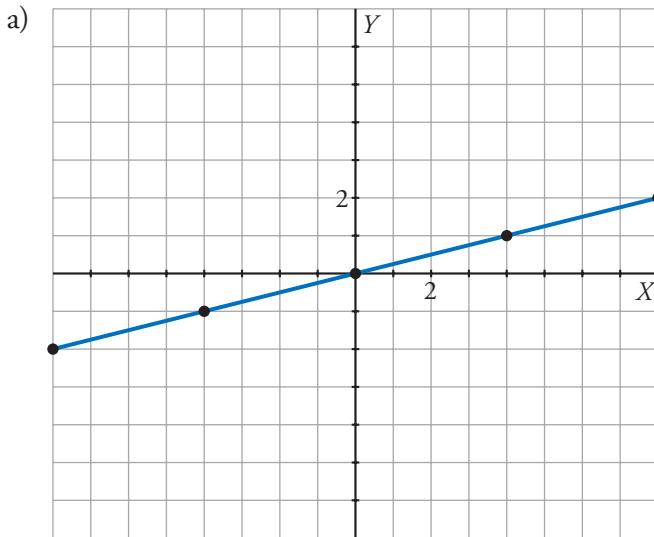




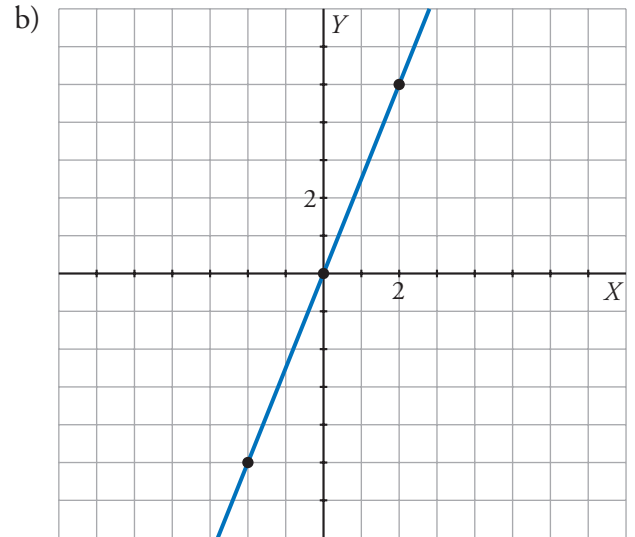
7. Refuerza: pendiente de una recta  
Soluciones

1 Observa cada recta y escribe su pendiente (simplificada todo lo posible) y su ecuación.



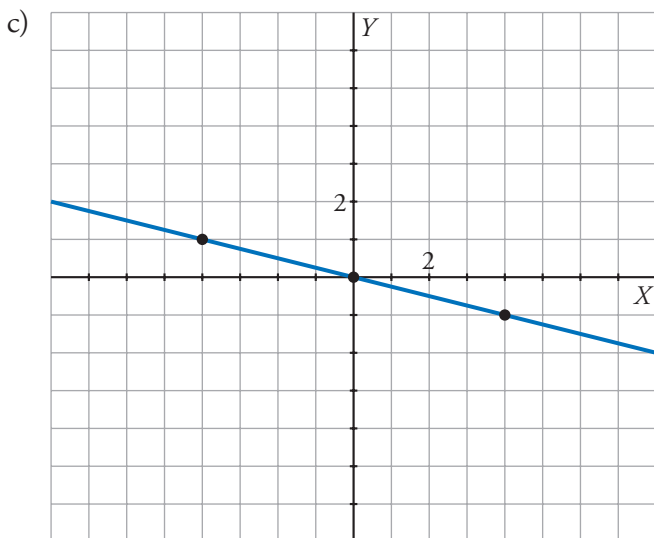
Pendiente:  $m = \frac{1}{4}$

Ecuación:  $y = \frac{1}{4}x$



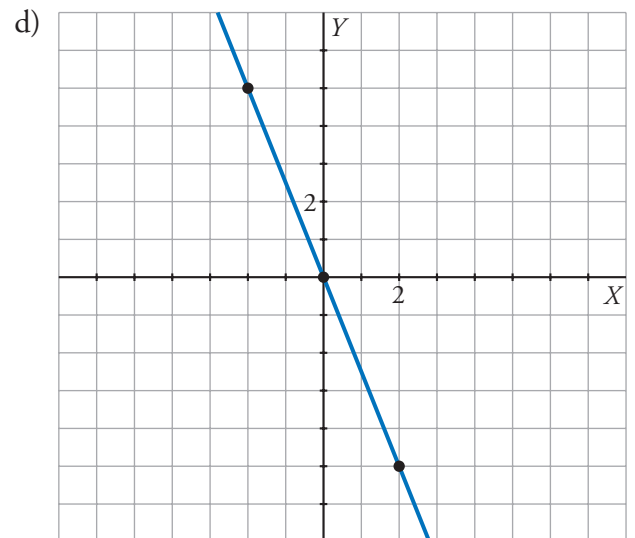
Pendiente:  $m = \frac{5}{2}$

Ecuación:  $y = \frac{5}{2}x$



Pendiente:  $m = \frac{-1}{4}$

Ecuación:  $y = \frac{-1}{4}x$



Pendiente:  $m = \frac{-5}{2}$

Ecuación:  $y = \frac{-5}{2}x$